



**Matemática**

**3° básico**

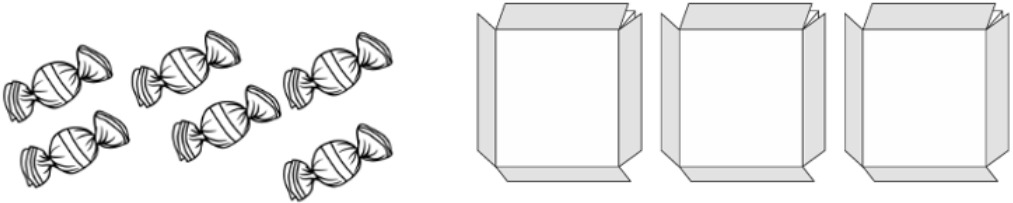

Nombre \_\_\_\_\_

Fecha: 27 de julio

**CONTENIDO:** División.  
**OBJETIVO:** Aplicar conocimientos sobre la división.  
**HABILIDADES:** Identificar, calcular y resolver.



**ITEM 1** Identificar, calcular

Reparte en cantidades iguales. Luego, escribe la división.

|   |   |
|---|---|
| 1 | <br>$\square : \square = \square$  |
| 2 | <br>$\square : \square = \square$ |

**ITEM 2** Identificar, calcular

Encierra según se indica. Luego, escribe la división.

|   |   |
|---|---|
| 1 | <p>En grupo de 4 peras</p> <br>$\square : \square = \square$  |
| 2 | <p>En grupos de 6 autos</p> <br>$\square : \square = \square$ |

|  |  |
|--|--|
|  |  |
|--|--|

**ITEM 3** Calcular

Resuelve con una resta iterada.

|   |   |
|---|---|
| 1 | $8 \div 2 =$<br><br>A <input type="text"/> le resté <input type="text"/> veces <input type="text"/> , entonces; $8 \div 2 =$ <input type="text"/>   |
| 2 | $16 \div 4 =$<br><br>A <input type="text"/> le resté <input type="text"/> veces <input type="text"/> , entonces; $16 \div 4 =$ <input type="text"/> |

**ITEM 4** Resolver

| Se hicieron 27 galletas. En cada frasco se guarda igual cantidad. ¿Cuántas galletas habrá en cada frasco? |                |
|---|----------------|
| DATOS   | REPRESENTACIÓN |
|   |                |
| OPERATORIA  | RESPUESTA      |
|   |                |

Cortar y entregar a la profesora

Nombre: \_\_\_\_\_

¿Cuál fue el ítem en el que te sentiste más seguro o segura respondiendo? Enciérralo.

ITEM 1    ITEM 2    ITEM 3    ITEM 4

Escribe una duda que tengas sobre las divisiones

---

---

---